

**ВСЕРОССИЙСКАЯ ОЛИМПИАДА ШКОЛЬНИКОВ ПО ГЕОГРАФИИ**  
**ОКРУЖНОЙ ЭТАП**  
**ТЕОРЕТИЧЕСКИЙ и ТЕСТОВЫЙ ТУРЫ**  
**возрастная группа (9-11 классы)**  
**2022-2023 учебный год**

*Уважаемый участник олимпиады!*

Вам предстоит выполнить теоретические (письменные) и тестовые задания.

**Время выполнения заданий тестового тура 60 минут, заданий теоретического тура 120 минут.**

Выполнение *тестовых заданий* целесообразно организовать следующим образом:

- не спеша, внимательно прочитайте тестовое задание;
- определите, какой из предложенных вариантов ответа наиболее верный и полный;
- напишите букву, соответствующую выбранному Вами ответу;
- продолжайте, таким образом, работу до завершения выполнения тестовых заданий;
- после выполнения всех предложенных заданий еще раз удостоверьтесь в правильности ваших ответов;
- если потребуется корректировка выбранного Вами варианта ответа, то неправильный вариант ответа зачеркните крестиком, и рядом напишите новый.

Предупреждаем Вас, что:

- при оценке тестовых заданий, где необходимо определить один правильный ответ, 0 баллов выставляется за неверный ответ и в случае, если участником отмечены несколько ответов (в том числе правильный), или все ответы;
- при оценке тестовых заданий, где необходимо определить все правильные ответы, 0 баллов выставляется, если участником отмечены неверные ответы, большее количество ответов, чем предусмотрено в задании (в том числе правильные ответы) или все ответы.

Выполнение *теоретических (письменных) заданий* целесообразно организовать следующим образом:

- не спеша, внимательно прочитайте задание и определите, наиболее верный и полный ответ;
- отвечая на теоретические вопросы и выполняя практические задания, обдумайте и сформулируйте конкретный ответ только на поставленный вопрос;

– если Вы отвечаете на задание, связанное с заполнением таблицы или схемы, не старайтесь детализировать информацию, вписывайте только те сведения или данные, которые указаны в вопросе;

– особое внимание обратите на задания, в выполнении которых требуется выразить Ваше мнение с учетом анализа ситуации или поставленной проблемы. Внимательно и вдумчиво определите смысл вопроса и логику ответа (последовательность и точность изложения). Отвечая на вопрос, предлагайте свой вариант решения проблемы, при этом ответ должен быть кратким, но содержать необходимую информацию;

– после выполнения всех предложенных заданий еще раз удостоверьтесь в правильности выбранных Вами ответов и решений.

Задание теоретического тура считается выполненным, если Вы вовремя сдаете его членам жюри.

**Максимальная оценка за тестовый тур – 40 баллов.**

**Максимальная оценка за теоретический тур – 60 баллов.**

**Максимальная оценка за два тура – 100 баллов.**

## ЗАДАНИЯ ТЕСТОВОГО ТУРА

Максимальный балл – 40

1. Назовите тип облаков, которые изображаются на картах погоды данным символом



- А. Кучевые
- Б. Перистые
- В. Слоистые
- Г. Кучево-дождевые

2. На каком материке расположены горы Вернадского?

- А. Евразия
- Б. Антарктида
- В. Австралия
- Г. Африка

3. Самым крупным соленым озером России является

- А. оз. Маныч-Гудил
- Б. оз. Эльтон
- В. оз. Баскунчак
- Г. оз. Чаны

4. Определите, у побережья какого материка располагается точка с координатами  $35^{\circ}$  ю. ш.,  $125^{\circ}$  в. д.:

- А. Евразия
- Б. Африка
- В. Южная Америка
- Г. Австралия

5. В какой стране располагаются Южные Альпы

- А. Новой Зеландии
- Б. Антарктиде
- В. ЮАР
- Г. Чили

6. Какой из перечисленных городов России самый восточный?

- А. Уфа
- Б. Оренбург
- В. Орск
- Г. Челябинск

**7. Выберите государство, которое НЕ является монархией**

- А. Бельгия
- Б. Сан-Марино
- В. Тайланд
- Г. Нидерланды

**8. Анклавами (полуанклавами) являются**

- А. Лесото
- Б. Еврейская автономная область
- В. Люксембург
- Г. Страна Басков

**9. Какое африканское государство НЕ пересекает южный тропик?**

- А. Зимбабве
- Б. Намибия
- В. ЮАР
- Г. Мозамбик

**10. Назовите географический объект, который образовался в мезозойскую (киммерийскую) эпоху складчатости**

- А. Срединный хребет
- Б. Урал
- В. Хребет Черского
- Г. Яблоневоый хребет

**11. Укажите материк, на котором расположено большее число государств (по сравнению с другими)**

- А. Южная Америка
- Б. Африка
- В. Евразия
- Г. Северная Америка

**12. Самым мощным океаническим течением в Южном полушарии является**

- А. Антарктическое циркумполярное
- Б. Перуанское
- В. Южно-Тихоокеанское
- Г. Восточно-Австралийское

**13. Одной из проблем Мирового океана является загрязнение его вод. А какое море сейчас считается самым чистым?**

- А. Красное
- Б. Арафурское
- В. Уэдделла
- Г. Карибское

**14. Назовите ученого (исследователя), который впервые указал основную причину приливов и отливов**

- А. Исаак Ньютон
- Б. Геродот
- В. Г. Галилей
- Г. В. Беринг

**15. Какая природная зона Азии отличается наиболее высоким процентом эндемичности во флоре и фауне?**

- А. Влажно-тропические вечнозелёные леса
- Б. Пустыни умеренного пояса
- В. Тайга
- Г. Переменно-влажные субэкваториальные леса

**16. Фолклендские острова являются спорной территорией между**

- А Венесуэлой и Испанией
- Б. Бразилией и США
- В. Аргентиной и Великобританией
- Г. Колумбией и Францией.

**17. Курская, Белоярская, Билибинская – к какому типу относятся эти электростанции:**

- А. Гидроаккумулятивные
- Б. Атомные
- Г. Геотермальные
- Д. Приливные

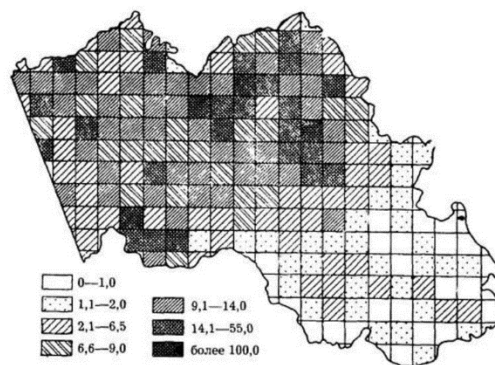
**18. Ареал распространения какого вида деревьев показан на рисунке**

- А) Дуб черешчатый
- Б) Бук лесной
- В) Береза
- Г) Сосна обыкновенная



**19. Назовите способ картографического изображения на рисунке**

- А) Картограмма
- Б) Картодиаграмма
- В) Локализованная диаграмма
- Г) Наглядный точечный значковый



**20. Выберите страну, ландшафт которой представлен на космическом снимке**

- А. Непал
- Б. Норвегия
- В. Саудовская Аравия
- Г. Исландия



## ЗАДАНИЯ ТЕОРЕТИЧЕСКОГО ТУРА

Максимальный балл – 60

### Задание 1.

Проанализируйте список выдающихся природных и историко-культурных объектов, которые принимали участие в голосовании «Семь чудес России»: *Алмазный карьер, Заповедник «Аркаим», Кунгурская пещера, Баскунчак, Музей-заповедник «Танаис», Долина Гейзеров, Мечеть Кул Шариф, Иволгинский дацан, Невьянская башня, Петергоф.*

Определите, на территории каких субъектов Российской Федерации находятся эти объекты.

**Задание 2.** Рассмотрите фрагмент карты (рис. 1) с маршрутами экспедиций известного путешественника, ответьте на вопросы:

Назовите имя этого путешественника.

В каком городе он родился?

В какой стране находится этот город?

Как назывались 3 корабля его экспедиции?

Какой титул он получил на Родине по прибытии?

Назовите его должность в Индии?

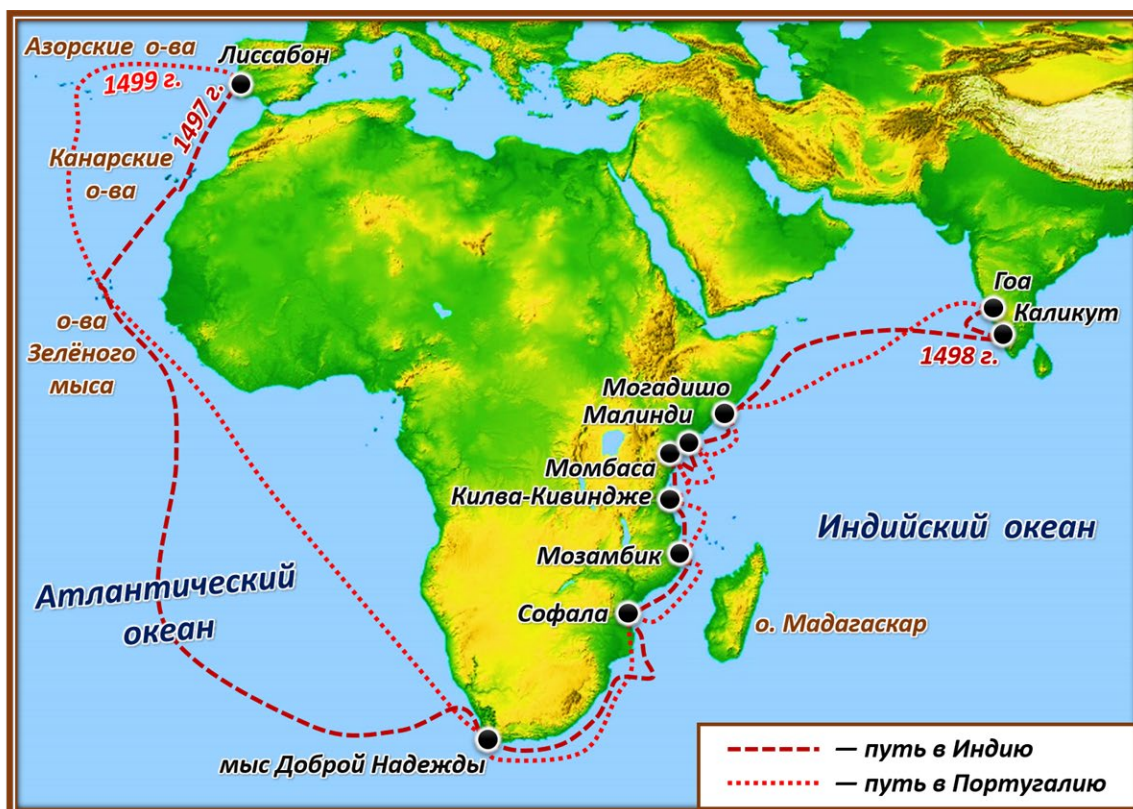


Рис. 1

Задание 3. По рис. 2 определите названия островов.




Рис.2

№	Название острова
1	
2	
3	
4	
5	
6	
7	
8	
9	
10	



**Задание 4.** По фотографиям определите название географических монументов и стел, укажите их максимально точное местоположение (страна/город/субъект страны/природный объект).




1



2




3



4



5



6



7



8

**Задание 5.** В США принято выделять различные «пояса» - охватывающие территорию нескольких штатов районы, отличающиеся специфической специализацией или иными социально-экономическими особенностями. К какому поясу: «молочному», «пшеничному», «ржавому», «автомобильному», «кукурузному», «солнечному» относится каждый из следующих штатов: Висконсин, Айова, Мичиган, Огайо, Флорида, Небраска? Обоснуйте свой ответ.