

**ВСЕРОССИЙСКАЯ ОЛИМПИАДА ШКОЛЬНИКОВ  
ПО ИСТОРИИ 2022-2023 ГГ.  
МУНИЦИПАЛЬНЫЙ ЭТАП  
7 КЛАСС**

**Задание 1. Выберите по 1 верному ответу в каждом задании (2 балла за каждый правильный ответ, максимальный балл – 8).**

**1.1.** Прочтите отрывок из «Повести временных лет» и укажите год, в котором происходили описанные события.

*«...Земля наша велика и обильна, а наряда в ней нет; да и пойдите княжить и володеть нами».*

- |        |        |
|--------|--------|
| 1. 862 | 2. 882 |
| 3. 872 | 4. 892 |

**1.2.** Прочтите отрывок из стихотворения и укажите современное название города, о котором идет речь.

*«Как ныне собирается вещей Олег  
Отмстить неразумным хозарам:  
Их села и нивы за буйный набег  
Обрек он мечам и пожарам.  
...Запомни же ныне ты слово мое:  
Воителю слава – отрада.  
Победой прославлено имя твое.  
Твой щит – на вратах Цареграда».*

- |           |            |
|-----------|------------|
| 1. Москва | 2. Стамбул |
| 3. Киев   | 4. Хорезм  |

**1.3.** Какой процесс из истории Европы не относится к IX веку?

- |                                  |                                |
|----------------------------------|--------------------------------|
| 1. Раскол государства Каролингов | 2. Завоевание римлянами Египта |
| 3. Первый Крестовый поход        | 4. Хиджра                      |

**1.4. \*** Укажите государство, в территорию которого входил самарский край:

- |                    |                           |
|--------------------|---------------------------|
| 1. Персия          | 2. Владимирское княжество |
| 3. Речь Посполитая | 4. Волжская Булгария      |

**Задание 2. Выберите несколько верных ответов в каждом задании (2 балла за каждое полностью правильно выполненное задание, 1 ошибка – 1 балл максимальный балл – 8):**

**2.1.** Выберите из предложенного перечня города, не являвшиеся столицами славянских княжеств.

1. Москва
2. Псков
3. Вильно
4. Смоленск
5. Казань
6. Астрахань

**2.2.** Выберите из предложенного перечня события, относящиеся к нашествию Золотой Орды на Русь в XIII в.

1. Падение Волжской Булгарии
2. Княжение Александра Невского в Новгороде
3. Присоединение к Москве Твери
4. Изгнание киевлянами князя Изяслава Ярославича
5. Куликовская битва
6. Ледовое побоище

**2.3.** Выберите из списка элементы защитного снаряжения российского воина.

1. Зерцало
2. Ендова
3. Бармица
4. Околица
5. Зипун
6. Яловец

**2.4. \*** Выберите из списка названия главной реки самарского края, которые применяли разные народы в разные времена.

1. Самара
2. Волга
3. Кама
4. Итиль
5. Ра
6. Уса

**Задание 3. Что объединяет понятия, даты, имена образующие каждый из представленных рядов? Дайте краткий ответ (2 балла за каждое задание, максимальный балл – 8).**

3.1. кривичи, вятичи, дреговичи

3.2. Ганзейский, Венецианский, Генуэзский

3.3. 1240 г., 1242 г., 1380 г.

3.4. тысяцкий, совет господ, владыка

**Задание 4. Восстановите хронологическую последовательность событий. Запишите ответ в виде последовательности цифр. (2 балла за каждую правильно указанную цифру, максимальный балл – 12):**

1. Гибель Волжской Булгарии как государства
2. Первое упоминание о Москве
3. Начало династии Рюриковичей
4. Грюнвальдская битва
5. Любечский съезд
6. Принятие христианства на Руси

**Задание 5. Установите соответствия. Запишите ответ в виде последовательности цифр. (2 балла за каждую правильно указанную цифру, максимальный балл – 12):**

а) Невская битва	1) 1185 г.
б) Первое нападение Батыя на Русь	2) 1072 г.
в) Битва на Калке	3) 1240 г.
г) Создание «Русской правды»	4) 1223 г.
д) Поход князей во главе с Игорем на половцев	5) 911 г.
е) Первый известный договор Руси с Византией	6) 1237 г.

**Задание 6. Прочитайте отрывок из стихотворения Аполлона Майкова и ответьте на вопросы. (Максимальный балл – 10)**

*«И пора-бы: не было бы русской тяжёлой погони,  
Да, и князь Александра заржали ретивые кони.  
И Гаврило Олексич сквозь тёмных кустов  
Серой рысью прыгнул на смалелых врагов.  
И сдержал своё слово: добрался он спросту,  
По доскам до епископской шнеки без мосту.  
И учал он направо и лево рубить всё и сечь,  
Словно в жгучие искры о вражьи шеломы рассыпался меч.*

*Образумились шведы в ту пору».*

(Аполлон Майков).


Вопросы:

1. Какое историческое событие описывается в отрывке? Укажите год этого события. (1 балл – верно названное событие, 1 балл – верно указанный год, максимум - 2 балла)
2. Как назывался город, из которого русичи пришли биться со шведами? (2 балла)
3. Укажите имя полководца, приведшего шведов на берега реки, и проигравшего в описанном в отрывке сражении? (2 балла)
4. В чём историческое значение описанного в отрывке события. Сформулируйте два суждения (1 последствие – 2 балла. Максимум – 4 балла)

**Задание 7.** Прочитайте текст. Заполните пробелы в тексте. Ответ оформите в виде перечня элементов под соответствующими номерами. **(2 балла за каждый правильно заполненный пропуск, максимальный балл – 16)**

Крупнейший город на стыке Азии и Европы, \_\_\_ 1 \_\_\_, был захвачена \_\_\_ 2 \_\_\_ под предводительством французского короля \_\_\_ 3 \_\_\_ 12-13 апреля \_\_\_ 4 \_\_\_ г. Это повлекло за собой уничтожение \_\_\_ 5 \_\_\_ как единого государства. Победители получили господство в \_\_\_ 6 \_\_\_ море и на севере \_\_\_ 7 \_\_\_ моря. Город был разграблен. Это событие прошло вместо Четвёртого \_\_\_ 8 \_\_\_ похода.

**Задание 8.** На рисунке представлены элементы вооружения и снаряжения русского воина с номерами. Укажите их названия **(2 балла за каждый правильно указанный союз племен, максимальный балл – 16).**



**Задание 9.** Ученик подготовил иллюстративный материал для презентации по теме «Религиозная и крепостная архитектура древней Руси», предупредив, что используются современные изображения зданий, воздвигнутых тогда.

Но, учитель обнаружил среди представленных иллюстраций здания, которые нельзя отнести к данной теме.


Помогите ученику исправить ошибки. Отберите верные иллюстрации и подпишите названия представленных на них архитектурных сооружений.

Ответ оформите в виде таблицы, выписав порядковые номера нужных иллюстраций и сделав подписи к ним (**правильно выбранная иллюстрация – 1 балл, правильно указанное название – 1 балл, максимальный балл – 10**).



1






2



3



4



5



6





7



8



9

**Максимальное количество баллов – 100**  
**Время выполнения задания - 90 минут**