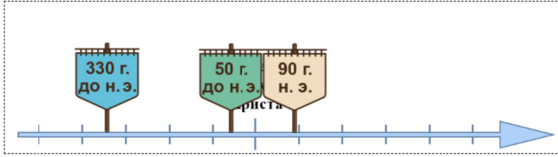





Ответы и указания к оцениванию образцов заданий проверочной работы по истории для обучающихся 5-х классов образовательных организаций города Москвы

№ задания	Ответ (эталон)	Макс. балл	Указания к оцениванию	Балл
1	<p>На данной ленте времени каждый отрезок между делениями соответствует одному веку.</p> <p>Расположите на ленте времени следующие даты: 330 г. до н. э., 50 г. до н. э., 90 г. н. э.</p> <p>Переместите с помощью компьютерной мыши флажки с датами так, чтобы основания флажков оказались в нужном месте на ленте времени.</p>	2	Ответ совпадает с эталоном	2
			Допущена одна ошибка	1
			Другие варианты	0



2	<p>Укажите на карте-схеме расположение города Рима.</p> <p>Поместите с помощью компьютерной мыши флажок «Рим» в выбранное место.</p>		1	Ответ совпадает с эталоном	1
				Другие варианты	0

3	<p>Каждая из иллюстраций, приведённых ниже, относится к одной из указанных в перечне тем. Установите соответствие между темами и иллюстрациями: к каждой теме подберите и переместите с помощью мыши относящуюся к ней иллюстрацию.</p> <table border="1" data-bbox="219 124 651 368"> <thead> <tr> <th colspan="4">ТЕМА</th> </tr> <tr> <th>шумерские города-государства</th> <th>Древняя Индия</th> <th>Древний Египет</th> <th>Древняя Греция</th> </tr> </thead> <tbody> <tr> <td></td> <td></td> <td></td> <td></td> </tr> </tbody> </table> <p style="text-align: center;">ИЛЛЮСТРАЦИЯ</p>	ТЕМА				шумерские города-государства	Древняя Индия	Древний Египет	Древняя Греция					2	Ответ совпадает с эталоном	2
ТЕМА																
шумерские города-государства	Древняя Индия	Древний Египет	Древняя Греция													
																
		Допущена одна ошибка	1													
		Другие варианты	0													

4	<p style="text-align: center;"><i>Прочтите отрывок из исторического источника и выполните задания 4 и 5.</i></p> <div style="border: 1px solid black; padding: 5px;"> <p>У царя этого племени родился первенец, которому дали имя Гаутама. На седьмой день после рождения сына мать умерла. Отец решил посвятить свою жизнь сыну. Он приказал огородить дом высокой стеной, чтобы ничто не могло смутить юную душу. В ворота пропускали только красивых и хорошо одетых людей. Прожив 29 лет, став мужем и отцом, Гаутама ни разу не выходил за ворота и наивно полагал, что всюду живут так же беззаботно, как он. Но однажды он встретил дряхлого старца и понял, что старость неизбежна. Встретил больного и понял, что не вечно будет здоров. Он задумался о смерти и решил стать отшельником. Долго странствовал он, голодал и терпел лишения. И однажды, когда он сидел под огромным деревом, скрестив ноги, предаваясь глубокому размышлению, он обрёл мудрость.</p> <p style="text-align: center;">Перечень тем</p> <table border="0" style="margin-left: auto; margin-right: auto;"> <tr> <td>А) шумерские города-государства</td> <td>Б) Древняя Индия</td> </tr> <tr> <td>В) Древний Египет</td> <td>Г) Древняя Греция</td> </tr> </table> </div> <p>Определите, к какой из предложенных тем относится данный отрывок. В ответе напишите букву, которой обозначена эта тема.</p> <p>Ответ: <input type="text" value="Б"/></p>	А) шумерские города-государства	Б) Древняя Индия	В) Древний Египет	Г) Древняя Греция	1	Ответ совпадает с эталоном	1
А) шумерские города-государства	Б) Древняя Индия							
В) Древний Египет	Г) Древняя Греция							
		Другие варианты	0					

5	<p>У царя этого племени родился первенец, которому дали имя Гаутама. На седьмой день после рождения сына мать умерла. Отец решил посвятить свою жизнь сыну. Он приказал отгородить дом высокой стеной, чтобы ничто не могло смутить юную душу. В ворота пропускали только красивых и хорошо одетых людей. Прожив 29 лет, став мужем и отцом, Гаутама ни разу не выходил за ворота и навечно полагал, что всюду живут так же беззаботно, как он. Но однажды он встретил дряхлого старца и понял, что старость неизбежна. Встретил больного и понял, что не вечно будет здоров. Он задумался о смерти и решил стать отшельником. Долго странствовал он, голодал и терпел лишения. И однажды, когда он сидел под огромным деревом, скрестив ноги, предаваясь глубокому размышлению, он обрёл мудрость.</p> <p>А. Почему, согласно данному отрывку, Гаутама считал, что всюду живут так же беззаботно, как он? Найдите в тексте верный ответ.</p> <p><i>Чтобы выбрать нужное предложение, щёлкните левой кнопкой мыши в любом его месте. После чего предложение выделится фоном. Чтобы отменить выбор, щёлкните повторно левой кнопкой мыши в любом месте этого предложения.</i></p> <p>Б. Какое событие, согласно данному отрывку, позволило Гаутаме понять, что старость неизбежна?</p> <p>Ответ: Гаутама встретил дряхлого старца</p>	1	А									
			Ответ совпадает с эталоном	1								
		Другие варианты	0									
		1	Б									
		Ответ совпадает с эталоном	1									
		Другие варианты	0									
6	<p>А. Запишите исторический термин, которому соответствует представленное определение.</p> <p>_____ Полис _____ – небольшое независимое государство в Древней Греции, центром которого был город.</p> <p>Б. Установите соответствие между крылатыми выражениями эпохи Древнего мира и смысловыми значениями, в которых они используются в речи: для каждой позиции из первого столбца подберите соответствующую позицию из выпадающего списка.</p> <table border="1"> <thead> <tr> <th>КРЫЛАТЫЕ ВЫРАЖЕНИЯ</th> <th>СМЫСЛОВЫЕ ЗНАЧЕНИЯ</th> </tr> </thead> <tbody> <tr> <td>тройский конь</td> <td>коварный дар, несущий гибель тому, кто его получает</td> </tr> <tr> <td>сицифов труд</td> <td>тяжёлая и бесполезная работа, не приносящая результата</td> </tr> <tr> <td>ахиллесова пята</td> <td>слабое, уязвимое место у человека</td> </tr> </tbody> </table>	КРЫЛАТЫЕ ВЫРАЖЕНИЯ	СМЫСЛОВЫЕ ЗНАЧЕНИЯ	тройский конь	коварный дар, несущий гибель тому, кто его получает	сицифов труд	тяжёлая и бесполезная работа, не приносящая результата	ахиллесова пята	слабое, уязвимое место у человека	1	А	
		КРЫЛАТЫЕ ВЫРАЖЕНИЯ	СМЫСЛОВЫЕ ЗНАЧЕНИЯ									
тройский конь	коварный дар, несущий гибель тому, кто его получает											
сицифов труд	тяжёлая и бесполезная работа, не приносящая результата											
ахиллесова пята	слабое, уязвимое место у человека											
		Ответ совпадает с эталоном	1									
		Другие варианты	0									
		2	Б									
		Ответ совпадает с эталоном	2									
		Допущена одна ошибка	1									
		Другие варианты	0									

7	<p>Древние финикийцы первыми в мире изобрели буквенный алфавит.</p> <p>Выберите два верных утверждения, объясняющие причины появления этого изобретения.</p> <ul style="list-style-type: none"> <input type="checkbox"/> необходимость регулирования общественных отношений у финикийцев <input checked="" type="checkbox"/> потребность создания простой и удобной формы записи для успешного ведения торговых дел <input type="checkbox"/> стремление завоевать соседние народы <input checked="" type="checkbox"/> сложность иероглифического письма, требовавшего длительного изучения <input type="checkbox"/> угодничество системы управления в финикийских колониях 	2	Ответ совпадает с эталоном	2
			Допущена одна ошибка	1
			Другие варианты	0

8

Рассмотрите изображение.



А. Укажите год, когда была сделана данная фотография.

Ответ:

Б. Выберите **два** верных суждения о представленной фотографии.

- Изображённое на фотографии событие произошло во время битвы за Берлин.
- На фотографии запечатлён момент водружения знамени на Бранденбургских воротах.
- Водружаемое над зданием знамя впоследствии получило название «Знамя Победы».
- Представленные на фотографии события относятся к начальному периоду Великой Отечественной войны.
- На улицах города, изображённых на фотографии, находилась только военная техника.

1	А	
	Ответ совпадает с эталоном.	1
	Другие варианты.	0
2	Б	
	Ответ совпадает с эталоном.	2
	Допущена одна ошибка.	1
	Другие варианты.	0