



Ответы и указания к оцениванию образцов заданий проверочной работы по истории для обучающихся 6-х классов образовательных организаций города Москвы

№ задания	Ответ (эталон)	Макс. балл	Указания к оцениванию	Балл								
1	<p>Каждая из иллюстраций, приведённых ниже, относится к одному из указанных в таблице событий (процессов). Установите соответствие между событиями (процессами) и иллюстрациями: к каждому событию (процессу) подберите относящуюся к нему иллюстрацию.</p> <table border="1"> <thead> <tr> <th>Столетняя война</th> <th>Образование государства Русь</th> <th>Монгольское нашествие на Русь в XIII в.</th> <th>Борьба Руси против монгольского владычества в XIV в.</th> </tr> </thead> <tbody> <tr> <td></td> <td></td> <td></td> <td></td> </tr> </tbody> </table>	Столетняя война	Образование государства Русь	Монгольское нашествие на Русь в XIII в.	Борьба Руси против монгольского владычества в XIV в.					2	<p>Ответ совпадает с эталоном</p> <p>Допущена одна ошибка</p> <p>Другие варианты</p>	<p>2</p> <p>1</p> <p>0</p>
Столетняя война	Образование государства Русь	Монгольское нашествие на Русь в XIII в.	Борьба Руси против монгольского владычества в XIV в.									
												

2	1	1
<p>Рассмотрите карту и выполните задания 2 и 3.</p>  <p>Походы, обозначенные на карте-схеме совершил князь</p> <p>Ответ: <input type="text" value="Святослав"/></p>	<p>Ответ совпадает с эталоном</p> <p>Другие варианты</p>	<p>1</p> <p>0</p>

3	 <p> <input type="checkbox"/> поход княжеского князя <input type="checkbox"/> поход великого князя <input type="checkbox"/> поход вельможеских войдк <input type="checkbox"/> территория государства Русь <input type="checkbox"/> к 980 году </p>	1	А	
			Ответ совпадает с эталоном	1
			Другие варианты	0
		1	Б	
	Ответ совпадает с эталоном	1		
	Другие варианты	0		

А. Напишите название города, обозначенного на карте-схеме цифрой 1.


Б. Какое государство прекратило существование во время правления князя, походы которого обозначены на карте-схеме?

4	<p>«И один из вельмож рязанских по имени Евпатий Коловрат был в то время в Чернигове вместе с князем Ингварем Ингоровичем... И уехал из Чернигова с малою дружиною, и мчался быстро. И приехал в землю Рязанскую, и увидел её опустошённой: грады разорены, церкви сожжены, люди убиты... Евпатий закричал в горести души своей и разгораясь сердцем. И собрал небольшую дружину – тысячу семьсот человек, которые Богом сохранены были вне города. И помчались вслед за царём [вражеским], и едва смогли догнать его в Суздальской земле. И внезапно напали на отдыхавшее войско вражеское...»</p> <p> <input type="checkbox"/> Столетняя война <input type="checkbox"/> образование Древнерусского государства <input checked="" type="checkbox"/> монгольское нашествие на Русь в XIII в. <input type="checkbox"/> борьба Руси против монгольского владычества в XIV в. </p>	1	Ответ совпадает с эталоном 1 Другие варианты 0	
		5	<p> «И один из вельмож рязанских по имени Евпатий Коловрат был в то время в Чернигове вместе с князем Ингварем Ингоровичем... И уехал из Чернигова с малою дружиною, и мчался быстро. И приехал в землю Рязанскую, и увидел её опустошённой: грады разорены, церкви сожжены, люди убиты... Евпатий закричал в горести души своей и разгораясь сердцем. И собрал небольшую дружину – тысячу семьсот человек, которые Богом сохранены были вне города. И помчались вслед за царём [вражеским], и едва смогли догнать его в Суздальской земле. И внезапно напали на отдыхавшее войско вражеское...» </p> <p> А. Где, согласно данному отрывку, находился Евпатий Коловрат во время разорения врагами Рязанской земли? Выделите в тексте правильный ответ. <i>Чтобы выбрать нужное предложение, щёлкните левой кнопкой мыши в любом его месте. После чего предложение выделится фоном. Чтобы отменить выбор, щёлкните повторно левой кнопкой мыши в любом месте этого предложения.</i> </p> <p> Б. Какова, согласно данному отрывку, численность дружины, которую сумел собрать Евпатий Коловрат? Ответ: <input type="text" value="тысячу семьсот человек"/> </p>	


6	<p>А. С каким из данных событий (процессов) связано слово «варяги»?</p> <p><input type="radio"/> Столетняя война</p> <p><input checked="" type="radio"/> образование государства Русь</p> <p><input type="radio"/> монгольское нашествие на Русь в XIII в.</p> <p><input type="radio"/> борьба Руси против монгольского владычества в XIV в.</p> <p>Б. Какие два из приведенных суждений являются характеристиками слова «варяги»?</p> <p><input type="checkbox"/> военные предводители тысячи воинов в XII-XIV вв.</p> <p><input checked="" type="checkbox"/> наёмные воины русских князей в IX-XI вв.</p> <p><input type="checkbox"/> представители монгольского хана в завоеванных землях</p> <p><input type="checkbox"/> на Руси категория зависимого населения по положению, близкая к рабам</p> <p><input checked="" type="checkbox"/> купцы, торговавшие на пути «из варяг в греки»</p>	1	А	
			Ответ совпадает с эталоном	1
		2	Б	
			Ответ совпадает с эталоном	2
			Допущена одна ошибка	1
			Другие варианты	0

7	<p>В 1237–1241 гг. войска монгольского хана Батые совершили два похода на русские земли и княжества.</p> <p>Выберите два утверждения, которые характеризуют последствия этого нашествия.</p> <p><input type="checkbox"/> Русские князья оказали яростное сопротивление монголам и отстаивали независимость своих земель.</p> <p><input checked="" type="checkbox"/> Русские земли должны были выплачивать дань (ордынский выход).</p> <p><input type="checkbox"/> Русские князья заключили военный союз с княжеством Литовским для совместной борьбы с Батыем.</p> <p><input type="checkbox"/> Русские князья начали строить оборонительные сооружения (засечные черты) для защиты своих земель.</p> <p><input checked="" type="checkbox"/> Хан своими ярлыками (грамотами) стал утверждать власть великих и удельных князей.</p>	2	Ответ совпадает с эталоном	2
			Допущена одна ошибка	1
			Другие варианты	0
8	<p>На каких двух изображениях представлены памятники культуры России, а на каких двух – памятники культуры зарубежных стран?</p> <p>Перетащите изображения в соответствующие столбцы таблицы.</p>	1	Ответ совпадает с эталоном	1
			Другие варианты	0

Памятники культуры России



Памятники культуры зарубежных стран



9

Рассмотрите изображение.



А. Запишите название государственного праздника, на котором была сделана данная фотография.

Ответ:

Б. Выберите два верных суждения о представленной фотографии.

- Изображенное на фотографии событие происходит на Манежной площади в Москве.
- Государственный праздник, на котором сделана фотография, посвящён Победе СССР над фашистской Германией.
- Знаменосцы, возглавляющие парад, проносят Знамя Победы над фашистской Германией.
- Знаменосцы несут штандарты с названиями современных воинских частей.
- Военный парад проходит ежегодно 22 июня.

1	А	
	Ответ совпадает с эталоном	1
	Другие варианты	0
2	Б	
	Ответ совпадает с эталоном	2
	Допущена одна ошибка	1
	Другие варианты	0